

NUORTEN SARJAN KYSYMYKSET JA VASTAUKSET 2012

JOUKKUEKYSYMYKSET 1-5

JOUKKUEKYSYMYS 1.

Alla on lista vieheistä. Nimeä kunkin vieheen valmistaja? (0,5p / viehe)

- a) Soft 4play**
- b) Platypus**
- c) Jätte**
- d) Monni**

VASTAUS: a) Soft 4play => Savageear, b) Platypus => Westin, c) Jätte => Westin, d) Monni => Kuusamon uistin

LÄHDE: KALASTUS -lehti 3/2012 ja Vapaa-ajan Kalastaja 3-4/2012

JOUKKUEKYSYMYS 2.

Kenet valittiin SVK:n Vuoden 2011 Vapaa-ajankalastajaksi? (1p)

VASTAUS: Heikki Kulmala Pohjois-Karjalasta

LÄHDE: VAK 3-4/12

JOUKKUEKYSYMYS 3.

Miksi makrillit näkyvät huonosti tavallisessa kaikuluotaimessa? (1p)

VASTAUS: Niillä ei ole uimarakkoa. Kaikuluotaimen signaalit menevät kalan lihasta läpi mutta singahtavat takaisin osuessaan kaasun täyttämään uimarakkoon.

LÄHDE: esim. www.tiede.fi ja Suomen Kalat, Koli L, WSOY 1998

JOUKKUEKYSYMYS 4.

SVK:n järjestämä Specimenkilpailu on jo tuttu käsite suurilla yksilöitä metsästäville kalastajille. (2p)

a. Kuka voitti Specimen-kilpailun yleisen sarjan vuonna 2011?

VASTAUS: Teemu Etelä-aho

LÄHDE: VAK 3-4/12

b. Monesko voitto tämä kyseiselle henkilölle oli?

VASTAUS: Kolmas voitto

LÄHDE: VAK 3-4/12

JOUKKUEKYSYMYS 5.

Mitkä ovat seuraavien kalojen suomenkieliset nimet? 0,5 p/laji

a) Salmo trutta

b) Abramis brama

c) Osmerus eperlanus

d) Pungitus pungitus

VASTAUS: Taimen, lahna, kuore ja kymmenpiikki

LÄHDE: Suomalainen Kalaopas, Lehtonen H, WSOY 2006

NUORTEN SARJAN HENKILÖKOHTAISET KYSYMYKSET 6-8

HENKILÖKOHTAINEN KYSYMYS 6.

Kuka oli SVK:n Kalastus on ROCK kilpailun kampanjakummi? (1p)

VASTAUS: Reckless Love –yhtyeen rumpali Hesse Maxx

LÄHDE: Vapaa-ajan Kalastaja 3-4/2012

HENKILÖKOHTAINEN KYSYMYS 7.

Millä kahdella maassamme elävällä särkikalalla koiraiden kutuväritys poikkeaa selvästi normaaliväristä? (0,5 p/laji)

VASTAUS: Mutu ja vimpa.

LÄHDE: Suomen Kalat, Lauri Koli, WSOY 1998

HENKILÖKOHTAINEN KYSYMYS 8.

Tänä vuonna käytiin ensimmäiset naisten perhokalastuksen SM-kisat. Kuka iskelmälaulajana tunnettu nainen toimi kisojen suojelijana? (1p)




VASTAUS: Katri Helena

LÄHDE: VAK 6/12

NUORTEN JOUKKUESARJAN KYSYMYKSET 9-13

JOUKKUEKYSYMYS 9.

Tunnista kuvissa näkyvät kalalajit (0,5p/laji)






VASTAUS: Pasuri, sulkava, muikku ja siika

LÄHDE: Suomalainen Kalaopas, Lehtonen H, WSOY 2006

JOUKKUEKYSYMYS 10.

Nimeä kuvassa olevat viitat. (0,5p/viitta)




VASTAUKSET:


Pohjoisviitta




Eteläviitta



Länsiviitta




Itäviitta



LÄHDE: Suomen viitoitusjärjestelmä

JOUKKUEKYSYMYS 11.

Kuvassa näkyvät kohot ovat: Puikkokoho, Bodied Wagglar, Wagglar , Avon koho. Mutta mikä on mikä? Nimeä kohot. (0,5 p / koho)



VASTAUS: Bodied Wagglar, Avon koho, Wagglar, Puikkokoho

LÄHDE: Onkijan kirja, Paataja A, Tammi 1985 sekä Modernt mete, Broman A, Förslagsaktiebolaget 1979

JOUKKUEKYSYMYS 12.

Mitkä nahkiaislajit elävät vesissämme (ei satunnaislajeja)? (1p)

VASTAUS: Nahkiainen ja pikkunahkiainen

LÄHDE: Suomalainen Kalaopas, Lehtonen H, WSOY 2006

JOUKKUEKYSYMYS 13.

Montako eri kalalajia on alla olevassa luettelossa? (1p)

Ruutana

Hopearuutana

Lampiruutana

Taimen

Purotaimen

Järvitaimen

Nieriä

Puronieriä

Karppi

Suomukarppi

Ruohokarppi

VASTAUS: 7 eri lajia, eli ruutana, hopearuutana, taimen, nieriä, puronieriä, karppi ja ruohokarppi.

LÄHDE: Suomalainen kalaopas, Lehtonen H, WSOY 2006

Maksimipisteet: 19 p.